




# Chapitre 2 : activité 1 : représentation de forces

Sur les dessins ci-dessous, représentez les forces demandées et donnez leur un nom adéquat.



Représentez la force que le renne exerce sur l'attelage.




Représentez la force que la main du gardien de buts exerce sur le ballon.



Représentez la force que la Terre exerce sur le pot de peinture.




Représentez la force que le chat exerce sur la queue du chien.




Représentez la force exercée par le marteau sur le clou.



Représentez la force qu'exerce la corde du ballon sur la main de l'enfant.



Représentez la force qu'exerce l'âne sur l'éléphant.



Représentez la force qu'exerce la Terre sur l'éléphant.